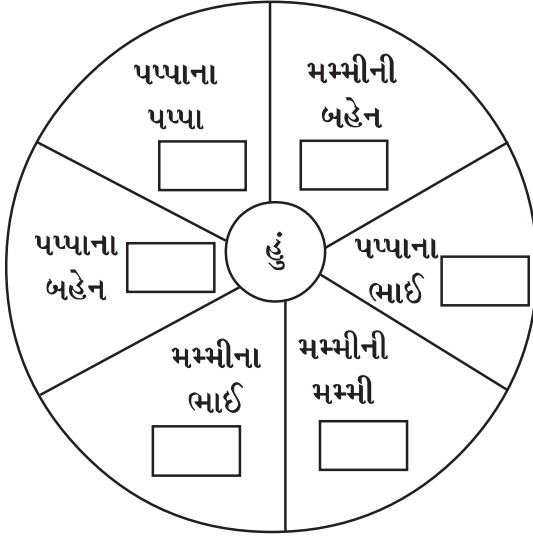


- 'હું જાણું' વિભાગમાં કુટુંબના સભ્યોનો પરિચય, ખરીદ-વેચાણના બિલને સમજવા, જેવી પ્રવૃત્તિઓ મૂકવામાં આવી છે. ઘરના રોજબરોજના બિલ સાથે આવતા પત્ર તથા રેપર, આમંત્રણપત્રિકા જેવા સાહિત્યને સમજી શકે તેવી પણ અનુકૂળતા થાય છે.

પ્રશ્ન-૧ વર્તુળમાં આપેલ ખાલી જગ્યા પૂરો.



પ્રશ્ન-૨ કોને બોલાવશો ? / ક્યાં જઈશું ?

(૧) મારે નવું મકાન બનાવવું છે.

(૨) મારે નવાં કપડાં સિવડાવવાં છે.

(૩) મારે લાકડાનું કમ્પ્યુટર ટેબલ બનાવડાવવું છે.

(૪) મને તાવ આવી ગયો.

(૫) ગરમ શીંગ-ચણા ખાવા છે.

પાણીમાં ડુબે એવી વસ્તુનાં નામ :

_____, _____, _____, _____

પ્રશ્ન-૩ બિલ વાંચીને પ્રશ્નોના જવાબ આપો.

કેશમેમો			
સરસ્વતી સ્ટેશનરી સ્ટોર્સ			
જી.ઈ.બી. સામે, ગાયત્રી મંદિર રોડ, ઈડર, જિ. સાબરકાંઠા			
બિલ નં. ૮૭			
નામ : શ્રી શનાભાઈ કેશાભાઈ ચૌહાણ			
ક્રમ	વિગત	જથ્થો	રકમ
૧	કાગળ	૧ ઘા	૨૫
૨	પેન્સિલ	પેકેટ-૧	૪૫
૩	બોલપેન	૫	૨૦
૪	સ્ટેપ્લર	૧	૫૦
૫	કલર બોક્ષ	૩	૬૦
૬	કંપાસ	૨	૧૪૦
	કુલ ત્રણસો ચાલીસ પૂરા	-	૩૪૦
બીલ બનાવનાર : _____			

(૧) શનાભાઈએ સ્ટેશનરીની વસ્તુઓ ક્યાંથી ખરીદી ?

(જ) _____

(૨) કંપાસની કિંમત કેટલી છે ?

(જ) _____

(૩) બિલમાં સૌથી સસ્તી વસ્તુ કઈ છે ?

(જ) _____

(૪) આ દુકાનમાંથી બીજી કઈ કઈ વસ્તુ ખરીદી શકાય ?

(જ) _____

(૫) રંગીન ચિત્ર તૈયાર કરવા માટે બિલમાં દર્શાવેલી કઈ કઈ વસ્તુઓનો ઉપયોગ કરશો ?

(જ) _____

પાણીમાં તરે એવી વસ્તુનાં નામ : _____, _____, _____, _____

ગણિત

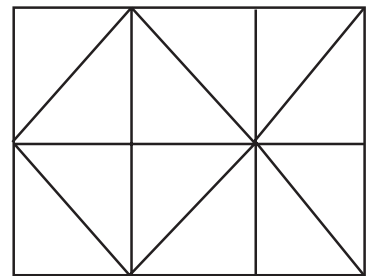
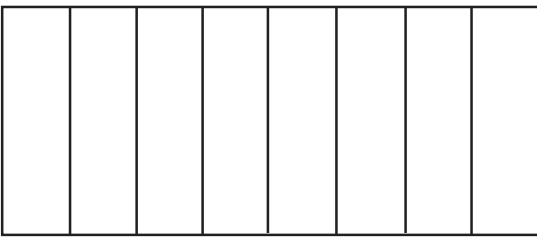
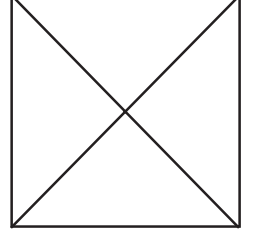
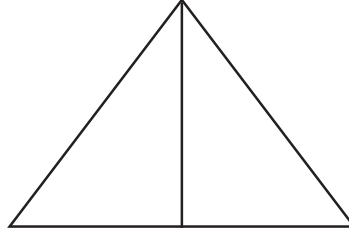
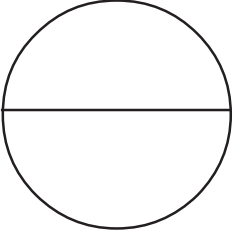
૬

અપૂર્ણાંક

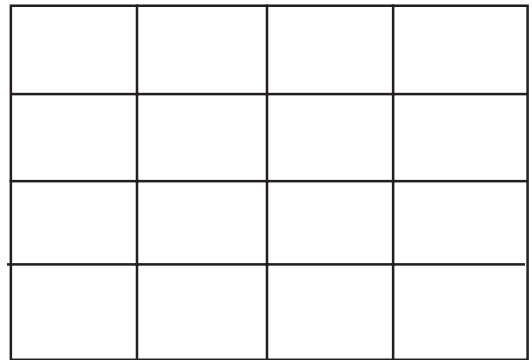
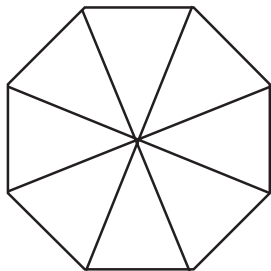
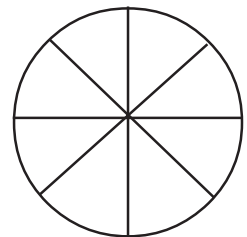
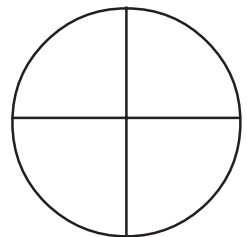
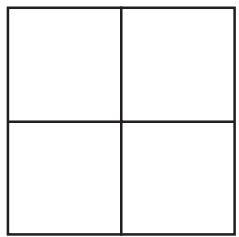
- વિદ્યાર્થી અગાઉના ધોરણમાં આખું, અડધું, પોણા વિશેનો ખ્યાલ મેળવેલ છે. આથી તે અંતર્ગત રંગ પૂરવાની પ્રવૃત્તિ આપી પુનરાવર્તન કરવામાં આવેલ છે.
- ત્યારબાદ ક્રમશઃ અપૂર્ણાંકને લગતા કોયડાઓ આપવામાં આવેલ છે. આથી જરૂર જણાય તે જગ્યાએ વિદ્યાર્થીને યોગ્ય માર્ગદર્શન આપી અપૂર્ણાંકનો ખ્યાલ વધુ સ્પષ્ટ કરાવવો.

- પા, અડધો અને પોણો



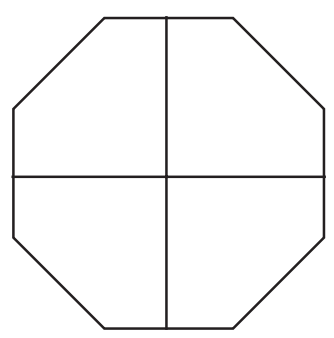
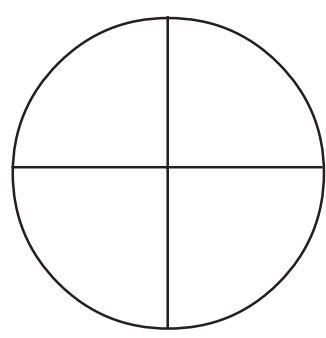
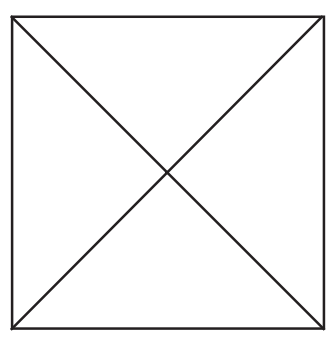
પ્રશ્ન-૧ દરેક આકૃતિમાં $\frac{1}{2}$ ભાગમાં રંગ પૂરો.



પ્રશ્ન-૨ દરેક આકૃતિમાં $\frac{1}{8}$ ભાગમાં રંગ પૂરો.



પ્રશ્ન-૩ દરેક આકૃતિમાં $\frac{1}{8}$ ભાગમાં રંગ પૂરો.



પ્રશ્ન-૪ ભાવપત્રકના આધારે નીચેના પ્રશ્નોના જવાબ આપો.

ભાવપત્રક	
વસ્તુ	૧ કિગ્રાની કિંમત (રૂપિયામાં)
જામફળ	૪૦
સંતરા	૬૦
બોર	૧૬
પપૈયાં	૨૦

(૧) $\frac{૧}{૨}$ કિગ્રા સંતરાની કિંમત કેટલી થાય ?

(૨) $\frac{૧}{૪}$ કિગ્રા જામફળની કિંમત કેટલી થાય ?

(૩) $\frac{૩}{૪}$ કિગ્રા પપૈયાંની કિંમત કેટલી થાય ?

(૪) $\frac{૩}{૪}$ કિગ્રા જામફળની કિંમત વધારે છે કે $\frac{૧}{૨}$ કિગ્રા બોરની કિંમત વધારે છે ?

પ્રશ્ન-૫ નીચેના પ્રશ્નોના જવાબ આપો.

(૧) કુલ ૮૦ ફૂલ છે. તેમાંથી $\frac{૧}{૨}$ ફૂલ ગુલાબનાં છે, તો ગુલાબનાં ફૂલની સંખ્યા કેટલી થાય ?

(૨) એક હોલમાં ૩૬ વ્યક્તિ બેઠી છે. તેમાંથી ચોથા ભાગની સ્ત્રીઓ છે, તો હોલમાં સ્ત્રીઓની સંખ્યા કેટલી હશે ?

(૩) ધોરણ-૫માં કુલ ૨૮ બાળકો છે. તેમાંથી અડધા ભાગનાં બાળકોએ ચિત્રસ્પર્ધામાં ભાગ લીધો, તો કેટલાં બાળકોએ ચિત્રસ્પર્ધામાં ભાગ લીધો ?

(૪) ૨૦૦ રૂપિયાના ચોથા ભાગના રૂપિયાની મીઠાઈ લેવાની છે, તો કેટલા રૂપિયાની મીઠાઈ લઈ શકાશે ?

જવાબો

પ્રશ્ન-૪ (૧) ૩૦ રૂપિયા (૨) ૧૦ રૂપિયા (૩) ૧૫ રૂપિયા (૪) $\frac{૩}{૪}$ કિગ્રા જામફળ

પ્રશ્ન-૫ (૧) ૪૦ ફૂલ (૨) ૯ સ્ત્રીઓ (૩) ૧૪ બાળકો (૪) ૫૦ રૂપિયા

English

7. A B C D...

- શિક્ષકની મદદથી નીચેની Rhyme ગાઓ.

A B C D E F G

H I J K L M N O P

L M N O P Q R S T

U V W X Y Z

X Y Z Sugar and bread.

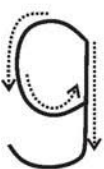
If you don't like it better go to bed.

Come to me the next morning.

And I'll teach you ABC (3)

- ⇒ ઉપરની Rhyme સમૂહમાં, જોડીમાં અને વ્યક્તિગત ગાઓ.

- ⇒ Rhyme માં જે મૂળાક્ષર (letter) એક કરતાં વધારે વાર આવ્યા છે તે નીચે લખો.

	g				

Let Us Say

- વર્ગખંડમાં રહેલ વસ્તુઓના નામ અંગ્રેજીમાં લખો.

- ઉદાહરણ પ્રમાણે, વસ્તુઓના નામનો ઉપયોગ કરી બે-બે વાક્યો બનાવો.

ઉદાહરણ : (1) This is a pencil.

(2) This is a table.

It is red.

It is square.

